

1. Как вы думаете, какие из предложенного списка профессии связаны с технологиями будущего: банкир, фрезеровщик, энергоаудитор, телефонист, космогеолог, нейрофармаколог?

Ответ: Космогеолог

2. Впишите пропущенные слова.

К натуральным волокнам животного происхождения относят шерсть и натуральный шелк.


3. Как называется повторяющийся рисунок переплетения в ткани? Ответ впишите в пустые клетки.

р	а	п	п	о	р	т
---	---	---	---	---	---	---

4. Какие свойства тканей не относятся к технологическим?

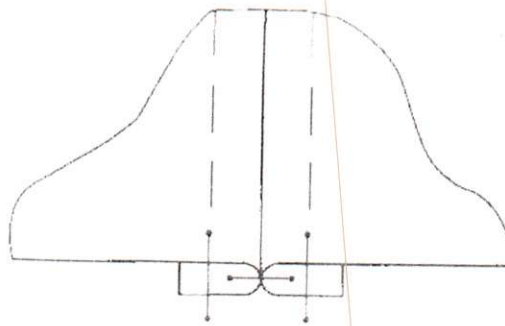
- а) пылеемкость;
- б) износостойкость;
- в) усадка;
- г) скольжение;
- д) сминаемость;
- е) осыпаемость.

5. Какой механизм швейной машины вы видите на рисунке?



Ответ: Регулятор натяжения верхней нити

6. Какой шов изображен на рисунке?



Ответ: Расстегивай

7. Каким швом можно обработать горловину?

Ответ: Горловину можно обработать несколькими способами: обтачкой из ткани, обтачкой с кантом, обтачкой под ушем.

8. Какие требования предъявляются к одежде? Выберите все правильные ответы.

- а) экономические;
- ☒ б) гигиенические;
- в) технологические;
- ☒ г) эстетические;
- д) эксплуатационные.


9. Впишите нужное слово.

Встречными называются складки, у которых на лицевой стороне сгибы ткани направлены навстречу друг другу, а на изнаночной – в разные стороны..

10. От чего зависит выбор иглы для вышивания? Выберите все правильные ответы.

- а) от рисунка вышивки;
- ☒ б) от толщины ткани;
- ☒ в) от толщины ниток;
- г) от мастерства вышивальщицы;
- д) от вида вышивки.

11. Какие виды декоративно-прикладного искусства представлены на рисунках?



А)

Б)

12. Установите правильное соответствие:

1	парное мясо	А	мясо, размороженное в естественных условиях
2	охлажденное мясо	Б	мясо, полученное сразу после убоя животных
3	размороженное мясо	В	мясо, охлажденное до температуры от 4 до 0° с естественным путем или искусственно
4	оттаявшее мясо	Г	мясо, размороженное в специальных камерах

Ответ: 1 - Б, 2 - В, 3 - Г, 4 - А

13. О каком процессе идет речь?

Мясо предварительно обжаривают или отваривают до полуготовности, затем укладывают в сотейник, добавляют пассерованные овощи, заливают водой, бульоном или соусом так, чтобы полностью покрыть содержимое. Проводят при слабом кипении под закрытой крышкой.

Ответ: Запекание

14. Укажите, какие из высказываний являются верными, а какие не верными.

Высказывание	верно / не верно
1. Для молочных продуктов не характерно высокое содержание солей кальция и фтора.	<u>неверно</u>
2. Молоко является богатым источником белков с высокой биологической и питательной ценностью.	<u>верно</u>
3. Для приготовления творога используют топленое молоко.	<u>верно</u>

15. Ответьте на вопрос. Какой продукт придает песочному тесту рассыпчатость, обволакивает частицы муки и не дает им соединиться?

М а с л о

16. Какие из перечисленных плодов относятся к косточковым? Выберите все правильные ответы.

- а) грецкие орехи;
- б) ананасы;
- в) абрикосы;
- г) сливы;
- д) груши.

17. Установите правильное соответствие между названием комнатного растения и видом необходимого для него полива.

1	пальма	А	умеренный
2	бегония	Б	редкий
3	кактус	В	частый

Ответ: 1 - Б, 2 - А, 3 - В

18. На какие ограничения указывают следующие условные обозначения?

		
А) <u>не различна</u> <u>значимість</u>	Б) <u>не різницю</u> <u>об'ємів</u>	В) <u>навіть</u> <u>навіть</u>

19. Решите задачу.

Предприниматель продал 1000 изделий по цене 750 руб. за штуку. Какова прибыль предпринимателя, если себестоимость 1 изделия составляет 500 руб.?

Решение: _____

Ответ: _____

20. К какому типу светильников относится настольная лампа?

Ответ: дискуссионный осветитель

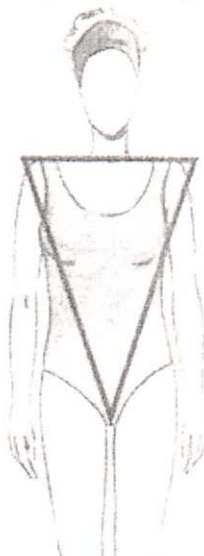
21. Творческое задание.

Дайте рекомендации по выбору одежды (юбки, блузки, брюки, платья, пальто и т.д.) для фигуры, представленной на рисунке. Одежду подобрать по следующим показателям:

- силуэт одежды;
- покрой одежды (покрой рукава, членение основных деталей);
- виды тканей и их расцветка;
- подходящие аксессуары.

Описание фигуры

Фигура отличается полными бедрами или ногами, узкими, по сравнению с бедрами и покатыми плечами. Условно такую фигуру вписывают в треугольник.



Силуэт одежды	Покрой одежды	Виды тканей и их расцветка	Аксессуары